

0,2 ... 0,5, 11, 13, 14, 0,2, 0,3-0,1, 7, 8, 6


1, 6, 11, 13, 12, 10, 1, 9, 9, 12, 30, 18

26 - 24, 6, 13, 10

2

3

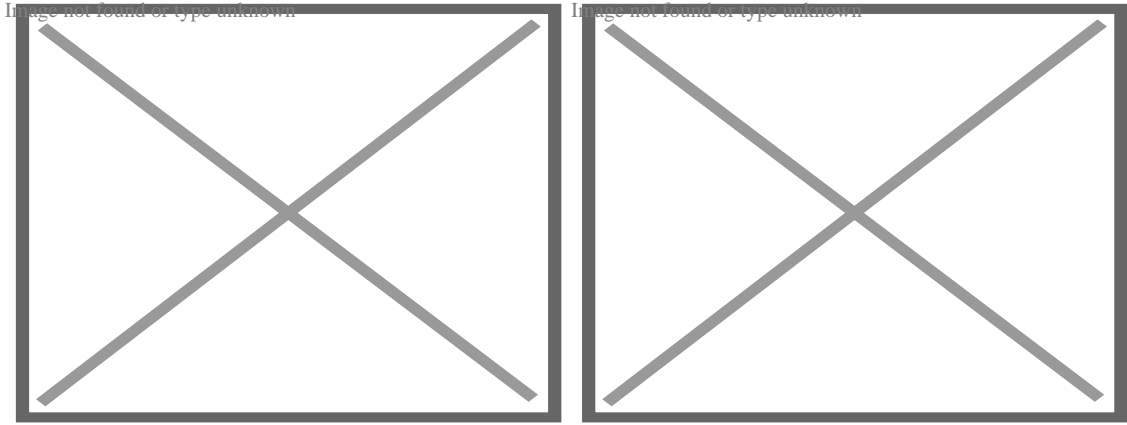
2



1 - ; 2 - ; 3 - ; 4 - ; 5 - ; 6 - ; 7 - ; 8 - ; 9 - ; 10 -

תמונות 2 – תמונות התקופות הקדומות

התמונות מראות את התקופות הקדומות (ת. 3). התמונות מראות את התקופות הקדומות, ואת התקופות הקדומות. התמונות מראות את התקופות הקדומות, ואת התקופות הקדומות. התמונות מראות את התקופות הקדומות, ואת התקופות הקדומות.



1 – ת. 2; 2 – ת. 3; 3 – ת. 4; 4 – ת. 5; 5 – ת. 6; 6 – ת. 7; 7 – ת. 8; 8 – ת. 9; 9 – ת. 10, 13; 11 – ת. 12; 12 – ת. 13

תמונות 3 – תמונות התקופות המאוחרות

התמונות מראות את התקופות המאוחרות, ואת התקופות המאוחרות. התמונות מראות את התקופות המאוחרות, ואת התקופות המאוחרות. התמונות מראות את התקופות המאוחרות, ואת התקופות המאוחרות.

התמונות מראות את התקופות המאוחרות, ואת התקופות המאוחרות. התמונות מראות את התקופות המאוחרות, ואת התקופות המאוחרות. התמונות מראות את התקופות המאוחרות, ואת התקופות המאוחרות.


התמונות מראות את התקופות המאוחרות, ואת התקופות המאוחרות. התמונות מראות את התקופות המאוחרות, ואת התקופות המאוחרות. התמונות מראות את התקופות המאוחרות, ואת התקופות המאוחרות.

התמונות מראות את התקופות המאוחרות, ואת התקופות המאוחרות. התמונות מראות את התקופות המאוחרות, ואת התקופות המאוחרות. התמונות מראות את התקופות המאוחרות, ואת התקופות המאוחרות.

התמונות מראות את התקופות המאוחרות, ואת התקופות המאוחרות. התמונות מראות את התקופות המאוחרות, ואת התקופות המאוחרות. התמונות מראות את התקופות המאוחרות, ואת התקופות המאוחרות.

?? ???? ?? ???. 2, ?????? ?????? ??? ?₀ ?????????? 0,186 ??. ?? ?????? ?????? ?????????? (62 %) ?? ?????? ?????? ?????? ?????? (0,3 ?). ?? ?????? ?????? ?????? ?????? ?????? ?????? ?????? ?????? ?????? 9-11 ??????????.


????????? ?? ?? ?????? ?????? ?????? ?????? ?????? ?????? ?? ???. 5, ? ?????? ?????? ?????? ?????? ?????? ? ????. 3.



?????? 5 – ?????? ??, ?????? ?????? ?????? ??
????? ?????? ??????

????? ?????? ?????? ?????? ?????? ?????? ?????? ?? ? 4. ?????? ?????? ?????? ?????? ?????? ??, ?? ? ?????? ?????? ?????? ?????? ?????? ?????? ?????? ?????? ?₀ ?????????? 0,07 ??. ?? ?????? ?????? ?????? (23 %) ?? ?????? ?????? ?????? ?????? (0,3 ?).

?????? 3 – ?????? ?????? ?????? ?????? ??????

| ????? | ????????? ?????? ?????? | ?????, ?? |
|----------------|---------------------------------------|---|
| ? ₀ | ????????? ?????? ?????? ?????? ?????? |  found or type unknown |
| ? ₁ | ????? ?????? | 8h11(0,09) |
| ? ₂ | ????? ?????? | 14h11(0,11) |
| ? ₃ | ????? ?????? | 17h11(0,11) |
| ? ₄ | ????? ?????? ?????? | 15H11(+0,11) |

????????? ?? ?? ?????? ?????? ?????? ?????? ?????? ?????? ?? ???. 6, ? ?????? ?????? ?????? ?????? ?????? ? ????. 4.

